

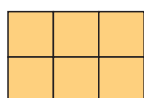


Nome:


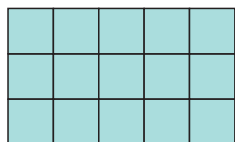
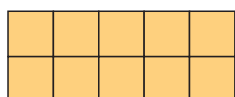
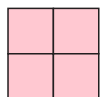

Data:

Multiplicação - 3º ano

1 Resolva as multiplicações, conforme o modelo:



$$3 \times 2 = 6$$




2 Assinale a alternativa correta, como no exemplo

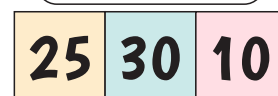
$$3 \times 3$$



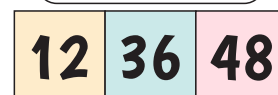
$$4 \times 4$$




$$5 \times 5$$



$$6 \times 6$$



$$7 \times 7$$





Nome:

Data:

Multiplicação - 3º ano

3

Pinte os múltiplos de 5, ou seja, contando de 5 em 5

1	2	3	4	5	6	7	8	9	10
11	12	13	14	15	16	17	18	19	20
21	22	23	24	25	26	27	28	29	30
31	32	33	34	35	36	37	38	39	40
41	42	43	44	45	46	47	48	49	50

4

Pinte os múltiplos de 6, ou seja, contando de 6 em 6

1	2	3	4	5	6	7	8	9	10
11	12	13	14	15	16	17	18	19	20
21	22	23	24	25	26	27	28	29	30
31	32	33	34	35	36	37	38	39	40
41	42	43	44	45	46	47	48	49	50
51	52	53	54	55	56	57	58	59	60



Nome:

Data:

Multiplicação - 3º ano

5 Vamos contar de:

	1	2	3	4	5	6	7	8	9	10
2 em 2	2	4			10			16		20
3 em 3	3		9			18			27	30
4 em 4	4			16			28			40
5 em 5	5				25			40		50
6 em 6	6	12				36			54	60
7 em 7	7		21				49			70
8 em 8	8			32				64		80
9 em 9	9				45				81	90



Nome:

Data:

Multiplicação - 3º ano

6

Uma caixa contém 6 garrafas. O dono do restaurante comprou 8 caixas. Quantas garrafas ele comprou no total?



7

Uma caixa de bombons tem 9 unidades. Ganhei 2 caixas. Quantos bombons ganhei no total?



8

O prédio do Hospital tem 6 andares. Cada andar tem 5 janelas de alumínio. Quantas janelas de alumínio tem no hospital todo?





Nome:

Data:

Multiplicação - 3º ano

9

Minha mãe comprou 7 vasos e quer colocar 4 flores em cada vaso. Quantas flores ela precisa comprar?



10

O meu pai quer comprar um martelo que custa R\$ 8,50. Papai tem 3 notas de R\$ 2,00, 3 moedas de R\$ 1,00 e 3 moedas de R\$ 0,50. Quantas notas e quantas moedas de cada ele pode usar para comprar o martelo? Lembrando que a loja não tem troco. Ele precisa entregar o valor exato.



11

Em um dia faço 4 atividades de matemática. Quantas atividades faço em uma semana? Lembrando que não faço atividades no Sábado e domingo.





Nome:

Data:

Multiplicação - 3º ano

12

Luri atirou 6 dardos, acertou 2 no azul, 3 no vermelho e acertou 1 no amarelo. Considerando a pontuação abaixo, quantos pontos Luri fez?



Preto	1 ponto
Azul	2 pontos
Vermelho	4 pontos
Amarelo	8 pontos